









Patente Richiesta: B

Domande: 30 Risposte Esatte: 30, Risposte Errate: 0, Esito Esame: IDONEO

	<p>1) Nei semafori in figura le frecce gialle fisse accese indicano di liberare l'incrocio, qualora sia stato già impegnato, o di arrestarsi in condizioni di sicurezza</p>	<input type="checkbox"/> <input type="checkbox"/>
	<p>2) I contrassegni rappresentati in figura sono applicati ad alcuni autobus</p>	<input type="checkbox"/> <input type="checkbox"/>
	<p>3) Il mancato rispetto delle norme prescritte per immettersi nel flusso della circolazione non comporta la sottrazione di punti dalla patente, ma sanzione pecuniaria</p>	<input type="checkbox"/> <input type="checkbox"/>
	<p>4) Durante le operazioni di presegnalazione con il segnale mobile di pericolo il conducente deve rendersi visibile indossando il giubbotto o le bretelle retroriflettenti ad alta visibilità</p>	<input type="checkbox"/> <input type="checkbox"/>
	<p>5) Per condurre un autoveicolo di massa massima autorizzata pari a 4.000 chilogrammi che traina un rimorchio di massa massima autorizzata di 2.000 chilogrammi è sufficiente aver conseguito la patente di categoria BE</p>	<input type="checkbox"/> <input type="checkbox"/>
	<p>6) Chi è penalmente e civilmente responsabile di un sinistro stradale è sempre soggetto all'arresto preventivo</p>	<input type="checkbox"/> <input type="checkbox"/>
	<p>7) Il segnale raffigurato, posto nei centri abitati, preannuncia l'incrocio con una linea tranviaria non regolata da semafori</p>	<input type="checkbox"/> <input type="checkbox"/>
	<p>8) Il segnale raffigurato obbliga i motociclisti a servirsene della pista loro riservata</p>	<input type="checkbox"/> <input type="checkbox"/>
	<p>9) La striscia bianca discontinua in figura nelle strade a senso unico è posta nei dossi, per dividere i due sensi di marcia</p>	<input type="checkbox"/> <input type="checkbox"/>
	<p>10) Il pannello integrativo raffigurato indica una strada innevata</p>	<input type="checkbox"/> <input type="checkbox"/>



Patente Richiesta: B

Domande: 30 Risposte Esatte: 30, Risposte Errate: 0, Esito Esame: IDONEO



11) Su una strada a due corsie a doppio senso di marcia, in figura, si deve impegnare quella di sinistra solo per il sorpasso



12) La sosta è vietata a meno di 15 metri dal segnale di fermata di autobus, filobus e veicoli circolanti su rotaia, qualora gli spazi di stazionamento non siano delimitati



13) Le giacche ad uso motociclistico garantiscono un'adeguata protezione all'abrasione in caso di scivolamento sull'asfalto



14) Chi guida un veicolo senza motore, con una concentrazione di alcool nel sangue superiore al limite stabilito, non è soggetto ad alcuna sanzione




15) L'uscita dei veicoli dalle autostrade avviene tramite corsie di decelerazione




16) Il segnale raffigurato obbliga ad arrestarsi alla frontiera per il controllo doganale




17) Il segnale raffigurato, posto sulle autostrade, precede il segnale d'obbligo di svolta a sinistra



18) Il delineatore raffigurato segnala una curva pericolosa a destra





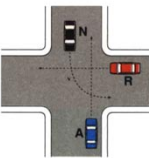
19) La distanza di sicurezza va sempre mantenuta, anche prima di iniziare un sorpasso



20) Il sorpasso a destra è consentito quando si percorre una strada extraurbana a senso unico





Patente Richiesta: B		Domande: 30 Risposte Esatte: 30, Risposte Errate: 0, Esito Esame: IDONEO	
	21) I catadiottri hanno la funzione di indicare la presenza e l'ingombro dei veicoli su cui sono applicati	<input checked="" type="checkbox"/>	<input checked="" type="checkbox"/>
	22) L'assunzione di LSD o l'anfetamina non compromette la facoltà di guida	<input checked="" type="checkbox"/>	<input checked="" type="checkbox"/>
	23) L'A.B.S. non agisce sulle ruote motrici	<input checked="" type="checkbox"/>	<input checked="" type="checkbox"/>
	24) Il segnale raffigurato obbliga ad arrestarsi all'incrocio	<input checked="" type="checkbox"/>	<input checked="" type="checkbox"/>
	25) Il segnale raffigurato si può trovare lungo la strada comunale n. 19	<input checked="" type="checkbox"/>	<input checked="" type="checkbox"/>
	26) Il valore della distanza di sicurezza deve essere stabilito anche in base alla cilindrata del veicolo	<input checked="" type="checkbox"/>	<input checked="" type="checkbox"/>
	27) Nell'incrocio rappresentato nella figura il veicolo N passa dopo il transito del veicolo R ma prima che transiti il veicolo A	<input checked="" type="checkbox"/>	<input checked="" type="checkbox"/>
	28) Il conducente di un autocarro fermo al semaforo deve prevedere la presenza di pedoni e ciclisti il cui avvistamento è precluso dalla sagoma del proprio veicolo	<input checked="" type="checkbox"/>	<input checked="" type="checkbox"/>
	29) Non è necessario mettere a punto i freni squilibrati, se il conducente è in grado di correggere l'anomalo comportamento del veicolo agendo sullo sterzo	<input checked="" type="checkbox"/>	<input checked="" type="checkbox"/>
	30) L'inquinamento dell'aria prodotto dai veicoli a motore può diminuire se si sistemano i bagagli sul tetto dell'autovettura	<input checked="" type="checkbox"/>	<input checked="" type="checkbox"/>